

**UNIVERSITÀ DELLA VALLE D'AOSTA
UNIVERSITÉ DE LA VALLÉE D'AOSTE**



**A.A. 2016/2017
TEST DI AMMISSIONE
AL CORSO DI LAUREA IN**

**SCIENZE POLITICHE E DELLE
RELAZIONI INTERNAZIONALI**

VERSIONE DI STAMPA “A”

001. Per quali produzioni si ricordano le città di Fabriano e Castelfidardo?

- A) La prima per la concia delle pelli e la seconda per la lavorazione dell'alabastro.
- B) La prima per l'industria della ceramica e la seconda per la produzione di blue jeans.
- C) La prima per la lavorazione della paglia (cappelli e borse) e la seconda per la produzione di orologi ad alta precisione.
- D) La prima per l'industria della carta e la seconda per la produzione di fisarmoniche.

002. Cosa è il carsismo, tipico del Friuli Venezia Giulia?

- A) È il prosciugamento di un'area paludosa per rendere i terreni sfruttabili.
- B) È l'insieme di fenomeni connessi all'azione di modellamento prodotta dalle precipitazioni sulle rocce di calcare.
- C) È un grande accumulo di detriti trasportati e depositati da un ghiacciaio.
- D) È una situazione di squilibrio e di disordine ambientale, causata da mancati interventi di bonifica per regolare il deflusso delle acque piovane.

003. La Costituzione definisce la struttura dello Stato italiano, esso si connota come "parlamentare" perché:

- A) Lo Stato si realizza nel governo del popolo attraverso strumenti tipici della democrazia rappresentativa, quali il Parlamento ed i referendum.
- B) Il Governo deve avere e conservare la fiducia del Parlamento, che si pone, quindi, al centro del sistema costituzionale.
- C) Lo Stato si realizza esclusivamente mediante i referendum.
- D) Garantisce a tutti i cittadini la libera professione di qualsiasi fede religiosa.

004. Quali elementi naturali dividono l'Emilia Romagna dalle altre regioni confinanti?

- A) Il Po che la divide dalla Toscana e dalle Marche e l'Appennino che la divide dalla Lombardia.
- B) Il Po che la divide dalla Lombardia e dal Veneto, e l'Appennino che la divide dalla Toscana e dalle Marche.
- C) Il Po che la divide dalle Marche, il Trebbia che la divide dalla Lombardia e l'Appennino che la divide dalla Toscana.
- D) Il Po che la divide dalla Lombardia e dal Veneto e l'Arno che la divide dalla Toscana.

005. 10 Agosto 2016 - Il CIPE assegna 15 miliardi di euro del fondo per lo sviluppo e la coesione, 13,4 miliardi di euro per i Patti per il Sud, 9 miliardi per la rete ferroviaria, e approva interventi per le infrastrutture viarie. Il CIPE è:

- A) La Commissione Europea per gli investimenti e la programmazione.
- B) Il Comitato internazionale per la programmazione europea.
- C) Il Consiglio intergovernativo per la produzione e gli investimenti.
- D) Il Comitato interministeriale per la programmazione economica.

006. Il Parlamento europeo, il Consiglio dell'Unione europea, la Commissione europea costituiscono le tre principali istituzioni che partecipano al processo legislativo nell'UE; il Parlamento europeo:

- A) Rappresenta i cittadini dell'UE ed è eletto direttamente da essi.
- B) Rappresenta gli interessi dell'Europa nel suo complesso, proponendo la legislazione e assicurandone il rispetto e attuando le politiche e il bilancio dell'UE.
- C) Garantisce che il diritto dell'UE venga interpretato e applicato allo stesso modo in ogni paese europeo, e che i paesi e le istituzioni dell'Unione rispettino la normativa dell'UE.
- D) Rappresenta i governi dei singoli Stati membri e la presidenza è assicurata a rotazione dagli Stati membri.

007. Il "bonus cultura", misura prevista dal Governo nell'ultima legge di Stabilità:

- A) Può essere utilizzato per l'acquisto di materiale didattico e cancelleria.
- B) Può essere utilizzato per l'acquisto libri, ingressi a musei, aree archeologiche, biglietti per cinema, teatri, mostre, concerti, fiere, parchi naturali ed eventi.
- C) È destinato ai ragazzi e ragazze nati nel 1996.
- D) È destinato solo ai ragazzi e ragazze italiani.

008. 12 MAG 2016 - "C'è un impatto sui conti, ed è inevitabile che ci sia, ma è nell'ordine di qualche centinaio di milioni di euro ed è quindi sostenibile". Lo ha detto il presidente dell'Inps, rispondendo ad una domanda sull'impatto delle nuove norme della legge sulle unioni civili in merito alla reversibilità delle pensioni per le coppie gay. Che è l'attuale presidente dell'Inps?

- A) Enrico Morando.
- B) Carlo Calenda.
- C) Tito Boeri.
- D) Gianclaudio Bressa.

009. Quale fu la battaglia che, durante la Prima Guerra Mondiale, segnò la definitiva sconfitta degli Austriaci e fu la premessa per la firma dell'armistizio tra Austria e Italia?

- A) La battaglia della Somme, nell'ottobre del 1917.
- B) La battaglia di Vittorio Veneto, nell'ottobre del 1918.
- C) La battaglia di Vittorio Veneto, nel febbraio del 1917.
- D) La battaglia della Somme, nel febbraio del 1918.

010. Parole come profughi, rifugiati, migranti, richiedenti asilo, clandestini, apolidi, ecc. oggi sono spesso usate in modo inappropriato ma indicano in realtà situazioni tra loro legate, ma non coincidenti. Il termine profugo:

- A) Identifica un migrante irregolarmente presente sul territorio o anche colui che, in fuga da guerre e persecuzioni, arriva in Italia con documenti falsi.
- B) È lo status giuridicamente riconosciuto di una persona che ha lasciato il proprio paese e ha trovato rifugio in un paese terzo.
- C) Indica in modo generico una persona che per diverse ragioni (guerra, povertà, fame, calamità naturali, ecc.) ha lasciato il proprio Paese ma non è nelle condizioni di chiedere la protezione internazionale.
- D) Identifica una persona che non ha la nazionalità di alcun Paese.

011. In Italia la politica del cosiddetto "compromesso storico", che sostenne la necessità di un accordo di lungo periodo tra le forze comuniste, socialiste e cattoliche come unica via per scongiurare i rischi di soluzioni autoritarie e per allargare le basi dell'indispensabile azione riformatrice, fu promossa....

- A) Dal socialista Sandro Pertini nel 1978. B) Dal democristiano Amintore Fanfani nel 1971.
C) Dal segretario del PCI Enrico Berlinguer nel 1973. D) Dal democristiano Giulio Andreotti nel 1976.

012. Quale fu la prima mossa dell'Italia, subito dopo essere entrata nella Seconda Guerra Mondiale a fianco della Germania di Hitler nel 1940?

- A) Dichiarò guerra agli Stati Uniti, riportando immediatamente una cocente sconfitta.
B) Si impegnò nella cosiddetta "offensiva sulle Alpi" contro la Francia, sferrando un attacco in condizioni di superiorità numerica contro un nemico praticamente già sconfitto.
C) Rimase per alcuni mesi inattiva osservando il comportamento delle altre potenze partecipanti al conflitto e, solo a metà del 1941, si impegnò in un'azione militare contro la Francia.
D) Diede prova di grande efficienza militare e valore sbaragliando la Francia, il cui esercito in quel momento era uno dei più forti d'Europa; tale operazione fu chiamata "offensiva sulle Alpi".

013. Ogni cittadino svolge, secondo le proprie possibilità e la propria scelta, una attività o una funzione che concorra al progresso materiale o spirituale della società. Ciò costituisce secondo la Costituzione:

- A) Una opportunità. B) Un diritto. C) Un dovere. D) Un'aspirazione.

014. Nel luglio del 2015 l'Iran e il gruppo dei 5+1 (i cinque membri permanenti del Consiglio di sicurezza dell'Onu più la Germania) raggiungono un accordo storico sul programma nucleare di Teheran. Il punto centrale dell'accordo è la graduale sospensione delle sanzioni contro Teheran in cambio dell'imposizione di limiti e controlli da parte delle potenze occidentali sul programma nucleare iraniano. Quali sono i cinque membri permanenti?

- A) Stati Uniti, Russia, Francia, Regno Unito e Giappone. B) Stati Uniti, Russia, Francia, Regno Unito e Cina.
C) Stati Uniti, Russia, Francia, Regno Unito e Italia. D) Stati Uniti, Francia, Italia, Regno Unito e Cina.

015. Crescono ogni anno le località balneari d'eccellenza lungo la Penisola. 152 Comuni rivieraschi (cinque in più del 2015) per 293 spiagge complessive (280 l'anno scorso) e 66 approdi turistici potranno fregiarsi della Bandiera Blu 2016. Quali tra le seguenti regioni hanno ricevuto più bandiere?

- A) Puglia e Campania. B) Lazio e Veneto.
C) Liguria e Toscana. D) Basilicata e Friuli Venezia Giulia.

Leggere il brano e rispondere alle seguenti 5 domande. (016 - 020)

Un vecchio signore senza eredi non sa scegliere a quale struttura di accoglienza per minorenni lasciare i suoi beni fra quattro possibili: una casa famiglia; una comunità educativa semiresidenziale; una comunità familiare e una comunità sperimentale.

I nomi delle quattro strutture sono Amiamoci, Benvenuti, Cuore e Diletto, non necessariamente in questo ordine.

Le città delle strutture sono: Pesaro, Messina, Crotone e Verona, non necessariamente in questo ordine.

I direttori delle strutture sono Proietti, Taffei, Alfano e Giusti, non necessariamente in questo ordine.

È inoltre noto che:

- Amiamoci è il nome della struttura che si trova in Sicilia e non è diretta da Proietti;
- la comunità familiare si trova in una regione settentrionale ed è diretta da Alfano;
- la comunità sperimentale diretta da Taffei si chiama Diletto e non si trova a Crotone;
- il nome della comunità educativa semiresidenziale è Benvenuti.

016. Cuore è il nome:

- A) Della comunità familiare. B) Della comunità educativa semiresidenziale.
C) Della struttura diretta da Proietti. D) Della casa famiglia.

017. Se il vecchio signore decidesse di lasciare i suoi beni alla struttura il cui nome è Amiamoci, i beni andrebbero:

- A) Alla casa famiglia. B) Alla struttura che si trova a Pesaro.
C) Alla struttura diretta da Proietti. D) Alla comunità sperimentale.

018. Sulla base delle informazioni fornite, indicare l'affermazione corretta.

- A) La casa famiglia si trova a Crotone.
B) Diletto è il nome della struttura che si trova a Pesaro.
C) Cuore è il nome della casa famiglia.
D) Giusti è il direttore della struttura che si trova nella regione settentrionale.

019. La struttura che si trova a Pesaro è:

- A) La casa famiglia. B) Quella diretta da Proietti. C) Quella diretta da Giusti. D) La comunità sperimentale.

020. La comunità familiare:

- A) Si trova a Verona. B) Si trova a Messina. C) È diretta da Giusti. D) È diretta da Proietti.

Leggere il brano e rispondere alle seguenti 5 domande. (021 - 025)

I detenuti nelle carceri italiane

Al 31 dicembre 2013 risultano detenute nelle carceri italiane 62.536 persone, il 4,8% in meno rispetto al 2012 (-8% sul 2010). Sono circa 10 milioni i detenuti nel mondo, condannati nella maggior parte dei casi.

Il numero di detenuti presenti in Italia è di gran lunga superiore alla capienza regolamentare, fissata a 47.709 posti, ma il tasso di sovraffollamento è in costante diminuzione grazie ai recenti provvedimenti normativi e pari a 131,1 detenuti su 100 posti disponibili per il 2013, a 110,4 a novembre 2014 (151 nel 2010).

Il 61,5% dei detenuti ha una condanna definitiva, il 36,6% è in attesa di un giudizio definitivo e l'1,9% è sottoposto a misure di sicurezza. Dei 38.471 condannati detenuti in carcere, circa la metà (il 46,6%) deve scontare una pena inferiore a cinque anni.

Le violazioni della normativa sugli stupefacenti rappresentano la tipologia più diffusa di reati per i detenuti presenti, con 24.273 casi (il 38,8%). Seguono i reati di rapina (18.064 casi, pari al 28,9%), e furto (13.531, il 21,6%).

Il 64% dei detenuti è nato in Italia. I detenuti stranieri, pari al 34,9%, provengono per la maggior parte dall'Africa (46,3%), in particolare da Marocco e Tunisia, e dall'Europa (41,6%).

Il 54,4% dei detenuti ha meno di quarant'anni. Una quota minoritaria (il 19,2%) ha più di 50 anni e il 5,7% più di 60.

I corsi scolastici attivati nel 2012-2013 sono stati 991: li ha frequentati il 24,7% della popolazione penitenziaria; quattro frequentanti su dieci sono stati i promossi. I corsi di avviamento professionale sono stati invece 318.

Risulta occupato in attività lavorative il 23,3% dei detenuti in carcere, in aumento del 13,6% rispetto al 2000.

Il 95,7% dei detenuti è di sesso maschile, una quota stabile nel corso del tempo. Le detenute con prole al seguito sono ospitate in sezioni maggiormente idonee ai bambini. Al 31/12/2013 sono 40 e quasi tutte hanno un solo figlio con sé, mentre sono 17 le donne in gravidanza.

021. Secondo il brano il numero dei detenuti sottoposti a misure di sicurezza:

- A) È superiore a quello dei detenuti in attesa di un giudizio definitivo ma inferiore a quello dei detenuti con condanna definitiva.
- B) È inferiore a quello dei detenuti in attesa di un giudizio definitivo ma superiore a quello dei detenuti con condanna definitiva.
- C) È superiore sia a quello dei detenuti in attesa di un giudizio definitivo sia a quello dei detenuti con condanna definitiva.
- D) È inferiore sia a quello dei detenuti in attesa di un giudizio definitivo sia a quello dei detenuti con condanna definitiva.

022. Secondo il brano:

- A) Il tasso di sovraffollamento delle carceri è in costante aumento.
- B) Nel 2014, il tasso di sovraffollamento delle carceri, è stato superiore a quello del 2010 ma inferiore a quello del 2013.
- C) Più della metà dei detenuti in carcere deve scontare una pena inferiore a cinque anni.
- D) La capienza regolamentare delle carceri è fissata a circa 47.700 posti.

023. 1) I detenuti per reati di rapina rappresentano 18.064 casi;

2) La tipologia più diffusa di reati per i detenuti presenti sono le violazioni della normativa sugli stupefacenti;

3) I detenuti per reati di furto e rapina rappresentano 21,6%.

Secondo il brano quali affermazioni risultano corrette?

- A) La prima e la seconda.
- B) La seconda e la terza.
- C) Tutte.
- D) La prima e la terza.

024. Secondo il brano i corsi scolastici attivati nel 2012-2013:

- A) Hanno fatto registrare il 50% dei promossi sui frequentanti.
- B) Sono stati 991.
- C) Sono stati frequentati da circa il 35% della popolazione penitenziaria.
- D) Sono stati circa il doppio dei corsi di avviamento professionale.

025. Secondo il brano i detenuti stranieri:

- A) Provengono maggiormente dal Marocco.
- B) Provengono maggiormente dalla Tunisia.
- C) Provengono per la maggior parte dall'Europa.
- D) Rappresentano circa il 35% dei detenuti.

026. Un aereo è partito da Milano alle ore 15 e 23 minuti, con un ritardo di 86 minuti. Quale doveva essere l'ora di partenza?

- A) Le 12 e 57 minuti.
- B) Le 13 e 07 minuti.
- C) Le 12 e 27 minuti.
- D) Le 13 e 57 minuti.

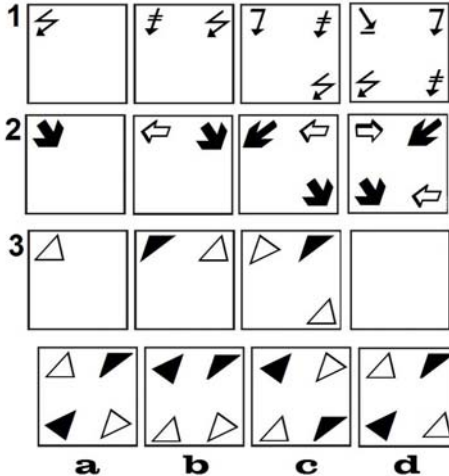
027. L'edificio in via Dante è più fatiscente di quello in via Pio X; l'edificio in via Serra è meno fatiscente di quello in via Pio X e più fatiscente di quello in via Dante. Pertanto:

- A) L'enunciato è sicuramente corretto.
- B) Non è possibile stabilire la correttezza dell'enunciato.
- C) L'enunciato potrebbe essere corretto.
- D) L'enunciato è sicuramente errato.

028. La presenza di carburante nel serbatoio (A) è condizione necessaria e sufficiente affinché il motore dell'automobile si avvii (B).

- A) Vero: (A) implica necessariamente (B) ma (B) non implica necessariamente (A).
- B) Vero: (A) implica necessariamente (B) e (B) implica necessariamente (A).
- C) Falso: (A) non implica necessariamente (B).
- D) Vero: (A) implica necessariamente (B).

029. Dopo aver osservato le serie 1 e 2, individuare la figura che completa logicamente la serie 3.



- A) Figura c. B) Figura b. C) Figura a. D) Figura d.

030. Tutti i colleghi di Filippo portano la giacca, la maggior parte indossa la camicia e non ha la cravatta. Fabio è un collega di Filippo e quindi:

- A) Fabio potrebbe indossare sia la camicia che la cravatta. B) Fabio sicuramente non ha la cravatta ma indossa la camicia.
C) Fabio sicuramente non indossa né camicia né cravatta. D) Fabio potrebbe portare la giacca e indossare la camicia.

031. Se il valore di A è 28 diviso 7, quello di B è 72 diviso 9 e quello di C è 84 diviso 7, a quanto equivale A meno B meno C?

- A) 8. B) -8. C) 16. D) -16.

032. Mettere tra parentesi la parola che assume un significato che può essere ricondotto per analogia sia al termine che precede che a quello che segue:
Innaturale (?) Pancetta.

- A) Manierato. B) Semplice. C) Affettato. D) Artefatto.

033. Il riquadro proposto è costruito in modo che, sia in senso orizzontale che verticale, due numeri di una fila, sommati o sottratti, diano come risultato il terzo. Qual è il numero mancante?

4	1	5
1	?	3
5	3	8

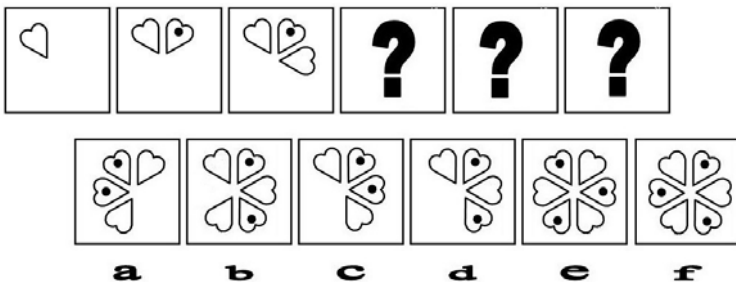
- A) 1. B) 3. C) 4. D) 2.

034. Riordinare il dialogo secondo la logica sequenza temporale:

- 1) È colpa di tutti e due - 2) Sono stato io, papà - 3) Non importa, vi perdono - 4) Insomma, mettetevi d'accordo - 5) No, sono stato io - 6) Chi ha fatto questo disastro?

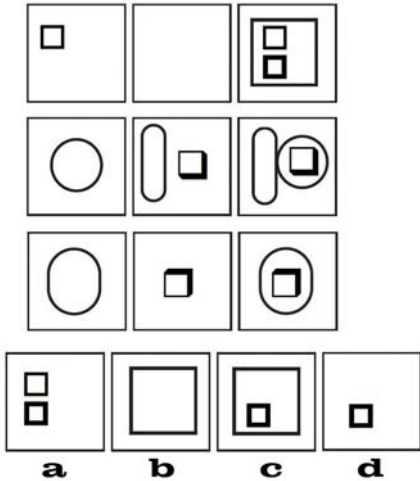
- A) 6 - 1 - 2 - 3 - 4 - 5. B) 6 - 2 - 5 - 4 - 1 - 3. C) 6 - 5 - 2 - 4 - 3 - 1. D) 6 - 2 - 4 - 5 - 1 - 3.

035. Scegliere tra i disegni contrassegnati con lettere i tre disegni che completano logicamente la serie.



- A) Disegni contrassegnati con le lettere d, b, f. B) Disegni contrassegnati con le lettere d, b, a.
C) Disegni contrassegnati con le lettere d, b, e. D) Disegni contrassegnati con le lettere a, c, f.

036. I disegni di seguito proposti sono suddivisi in tre serie. Il disegno mancante della prima serie è contenuto nel box:



A) Indicato con la lettera c. B) Indicato con la lettera d. C) Indicato con la lettera a. D) Indicato con la lettera b.

037. Caio ha investito in azioni 4 mila euro più di Sempronio, il quale ha investito il doppio di Tizio. Se in totale hanno investito 29 mila euro, quanto ha investito Sempronio?

A) 12 mila. B) 7,5 mila. C) 10 mila. D) 8 mila.

038. Completare la serie:

“← ↖ ↗ →”

1) ↙ 2) ↓ 3) ↑ 4) ↘

A) La serie si completa con il disegno indicato con il numero 3).
B) La serie si completa con il disegno indicato con il numero 4).
C) La serie si completa con il disegno indicato con il numero 1).
D) La serie si completa con il disegno indicato con il numero 2).

039. Quale figura completa la serie in modo logico?

“☞ ⌚ ⑤”

1) ④ 2) ⌚ 3) ⑥ 4) ★

A) La figura contraddistinta con il numero 3). B) La figura contraddistinta con il numero 4).
C) La figura contraddistinta con il numero 1). D) La figura contraddistinta con il numero 2).

040. Quali dei numeri proposti integrano la serie?

4 - ... - 36 - 108 - ...

A) 6 e 226. B) 10 e 324. C) 12 e 324. D) 12 e 320.