

**UNIVERSITÀ DELLA VALLE D'AOSTA
UNIVERSITÉ DE LA VALLÉE D'AOSTE**



**A.A. 2017/2018
TEST DI AMMISSIONE
AL CORSO DI LAUREA**

**SCIENZE POLITICHE E DELLE
RELAZIONI INTERNAZIONALI**

VERSIONE DI STAMPA “A”

UNIVERSITA' DELLA VALLE D'AOSTA
UNIVERSITÉ DE LA VALLÉE D'AOSTE
SCIENZE POLITICHE E DELLE RELAZIONI INTERNAZIONALI

001. Nel governo Gentiloni, chi è subentrato, nella carica di Ministro dell'Istruzione, dell'Università e della Ricerca, a Stefania Giannini?

- A) Valeria Fedeli. B) Angela D'Onghia. C) Graziano Delrio. D) Vito De Filippo.

002. Perché il Premier Matteo Renzi ha dato le proprie dimissioni a Capo del Governo?

- A) A seguito della bocciatura del referendum costituzionale del dicembre 2016.
B) A seguito della mozione di sfiducia presentata dal Parlamento al Governo.
C) A seguito dello scandalo del MPS.
D) A seguito dell'inchiesta sullo smaltimento dei rifiuti legati alle estrazioni petrolifere.

003. La distinzione tra beni materiali e beni immateriali è basata sulla presenza o meno del requisito della materialità, cioè della consistenza corporea. Quale tra i seguenti è un bene materiale?

- A) I diritti di autore. B) Un brevetto. C) Un libro. D) Una consulenza legale.

004. L'Italia ha cominciato ad essere terra d'asilo dagli inizi degli anni '90. Molto abbiamo fatto in termini di accoglienza e protezione, ma molto rimane ancora da fare. I molti rifugiati che stanno arrivando sulle nostre coste - che fuggono in maggioranza dalla Siria, dall'Iraq, dall'Eritrea e dall'Afghanistan - hanno bisogno di protezione, accoglienza e possibilità di integrazione. Con il termine richiedente asilo si intende:

- A) Una persona che è stata estradata in Italia.
B) Una persona che fugge dal proprio Paese e inoltra, in un altro Stato, una domanda di asilo per il riconoscimento dello status di rifugiato.
C) Una persona che nessuno Stato considera come suo cittadino.
D) Una persona che a causa di catastrofi naturali è costretta a lasciare la propria abitazione e a volte il proprio Paese.

005. 28 Aprile 2017, "La Bce continua ad aspettarsi tassi ai livelli attuali, o inferiori, ancora a lungo e ben oltre la fine del quantitative easing". Lo ha detto ieri, per l'ennesima volta negli ultimi anni, il governatore della Banca Centrale Europea. Chi è l'attuale presidente della Bce?

- A) Mario Draghi. B) Ignazio Visco. C) Mario Monti. D) Jean-Claude Trichet.

006. Il fiume Isonzo, oltre che in Italia, scorre anche in un altro stato. Quale?

- A) Svizzera. B) Austria. C) San Marino. D) Slovenia.

007. Il Parlamento europeo è l'organo legislativo dell'Unione europea, è eletto direttamente dai cittadini. In quale anno si svolgeranno presumibilmente le elezioni sapendo che le ultime si sono svolte nel maggio 2014?

- A) Nel 2017. B) Nel 2027. C) Nel 2019. D) Nel 2024.

008. Con riferimento alla popolazione italiana è corretto affermare che:

- A) Nella zona della pianura Padana vive circa il 15% della popolazione totale.
B) La Liguria è una regione con un alto tasso di fecondità.
C) La densità di popolazione è tra le più alte d'Europa ma è distribuita in modo irregolare.
D) La densità di popolazione è molto bassa e soprattutto concentrata nelle zone a sviluppo agricolo.

009. Qual è il nome del golfo formato dalle tre regioni Puglia, Basilicata e Calabria?

- A) Golfo di Taranto. B) Golfo di Noto. C) Golfo Aranci. D) Golfo di Oristano.

010. In quale regione o quali regioni si trova il parco nazionale delle Cinque Terre?

- A) Puglia. B) Veneto. C) Sicilia. D) Liguria.

011. Perché è nota la località di Cassibile?

- A) Poiché vide la breve prigionia di Mussolini poi liberato dai tedeschi.
B) Poiché durante la II guerra mondiale vi furono individuati e fucilati la Petacci e Mussolini.
C) Poiché durante la II guerra mondiale i generali G. Castellano e W. Bedell Smith vi firmarono l'armistizio che sanciva la resa incondizionata dell'Italia alle potenze alleate.
D) Poiché avvenne, nel luglio 1940, il primo scontro della storia tra la flotta italiana e quella britannica.

012. Chi fu il Ministro dell'Istruzione che fece nel 1923, una riforma che attribuiva ai licei il compito di formare la classe dirigente, mentre alle altre scuole riservava la funzione di addestrare i giovani destinati a svolgere al più presto un mestiere?

- A) Giovanni Gentile. B) Roberto Farinacci. C) Giacomo Matteotti. D) Italo Balbo.

013. Quali sono le regioni italiane che confinano con la Svizzera?

- A) Valle d'Aosta, Piemonte, Lombardia, Veneto. B) Valle d'Aosta, Piemonte, Lombardia, Trentino-Alto Adige.
C) Toscana, Piemonte, Lombardia, Trentino-Alto Adige. D) Valle d'Aosta, Piemonte, Liguria, Trentino-Alto Adige.

014. Le elezioni presidenziali francesi del 2017 si sono tenute il 23 aprile (primo turno) e il 7 maggio (secondo turno) e hanno visto l'elezione di Emmanuel Macron. Macron è andato al secondo turno con il 24,01% delle preferenze, insieme a:

- A) Nicolas Sarkozy. B) Marine Le Pen. C) Francois Fillon. D) Jean-Frédéric Poisson.

015. Il 28 ottobre 1940, quando l'Italia decise di muovere guerra alla Grecia durante la Seconda Guerra Mondiale, era il 18° anniversario di quale avvenimento?

- A) L'alleanza con la Germania nazista. B) La nascita del regno d'Italia.
C) La Marcia su Roma. D) La disfatta di Caporetto.

Leggere il brano e rispondere alle seguenti 5 domande. (016 - 020)

Un fotografo amatoriale non sa a quale corso partecipare tra quattro possibili offerti dalla scuola accademica: 1) "Paesaggio", 2) "Reportage", 3) "Architettura", 4) "Fotografare il corpo".

I docenti, non necessariamente in questo ordine, sono:

- *Saverio Palombo che è anche il coordinatore didattico della scuola accademica;*
- *Luca Merano che è anche il direttore generale della scuola accademica;*
- *Giorgio Valenti che è anche il responsabile della segreteria studenti della scuola accademica;*
- *Stefano Taddei che è anche il responsabile della comunicazione della scuola accademica.*

Le durate dei corsi sono di uno, due, tre e quattro mesi, non necessariamente in questo ordine.

È inoltre noto che:

- *il coordinatore didattico della scuola accademica è il docente del corso che dura due mesi;*
- *il corso "Architettura" dura quattro mesi;*
- *il corso "Fotografare il corpo" è tenuto da Stefano Taddei e non dura tre mesi;*
- *il docente del corso di "Reportage" è Luca Merano.*

016. Il responsabile della segreteria studenti della scuola accademica è il docente del corso:

- A) "Paesaggio". B) "Architettura". C) Che dura un mese. D) "Fotografare il corpo".

017. Il corso che ha durata maggiore è:

- A) Quello tenuto da Stefano Taddei. B) "Paesaggio".
C) "Reportage". D) Quello tenuto da Giorgio Valenti.

018. Quale corso dura un mese?

- A) "Fotografare il corpo". B) "Paesaggio".
C) Quello tenuto da Luca Merano. D) Quello tenuto dal direttore generale della scuola accademica.

019. Il responsabile della comunicazione della scuola accademica NON è:

- A) Docente del corso "Paesaggio". B) Stefano Taddei.
C) Docente del corso "Fotografare il corpo". D) Docente del corso che dura un mese.

020. A quale corso parteciperebbe il fotografo amatoriale se decidesse di scegliere quello che, in base alla durata, è terzo in ordine decrescente?

- A) "Architettura". B) "Reportage". C) "Paesaggio". D) "Fotografare il corpo".

Leggere il brano e rispondere alle seguenti 4 domande. (021 - 024)

CAFFETTIERA CON AUTOACCENSIONE PROGRAMMATA

Questa funzione permette di programmare l'ora di autoaccensione dell'apparecchio, ad esempio la sera per la mattina successiva. Per prima cosa premere il tasto acceso/spento. Ricordarsi che la spia rossa indica che la caffettiera è accesa mentre la spia verde indica che è attiva la funzione di mantenimento della temperatura del caffè per 30 minuti. Il dispositivo si attiva automaticamente ad ogni accensione dell'apparecchio. Per disattivarlo, premere il tasto "30", l'apparecchio emette un BEEP lungo e la spia verde si spegne.

"Procedere ad impostare l'ora esatta": premere il tasto "Orologio" e mantenerlo premuto fino al raggiungimento dell'ora esatta; rilasciare quindi il tasto: dopo 5 secondi l'ora visualizzata viene memorizzata. Non è possibile modificare l'ora se l'accensione programmata è attiva.

"Programmare l'ora di accensione": premere il tasto "Timer" e mantenerlo premuto sino al raggiungimento dell'ora di accensione desiderata, sul display appare la scritta "PROG" in alto a destra; rilasciare quindi il tasto: dopo 5 secondi l'ora visualizzata viene memorizzata e sul display ricompare l'ora corrente.

In ogni momento è possibile visualizzare l'ora programmata premendo il tasto "Timer". Dopo alcuni secondi, sul display ricompare l'ora corrente.

L'apparecchio ha come orario di accensione preimpostato le ore 6.00.

Le impostazioni di autoaccensione vengono perse se manca la tensione elettrica per più di un minuto.

021. Secondo il brano:

- A) La funzione di mantenimento della temperatura del caffè si attiva premendo il tasto "30".
B) Quando la spia rossa è accesa si può procedere ad impostare l'ora esatta.
C) In ogni momento è possibile visualizzare l'ora programmata premendo il tasto "Timer" per 5 secondi.
D) Prima di programmare l'ora di accensione è necessario eliminare l'orario di accensione già preimpostato.

022. Secondo il brano:

- A) Le impostazioni di autoaccensione vengono perse se manca la tensione elettrica per più di un minuto.
B) È possibile visualizzare l'ora corrente premendo il tasto "Orologio" per alcuni secondi.
C) Una volta programmata l'ora di accensione non è più possibile visualizzarla.
D) Non è possibile modificare l'ora esatta e l'ora di accensione programmata se quest'ultima è attiva.

023. Secondo il brano per programmare l'ora di accensione:

- A) Si deve aspettare che sulla sinistra del display appaia la scritta "PROG".
B) Si deve tenere premuto il tasto "Timer" sino a quando sul display non compare l'ora di accensione desiderata.
C) Si deve tenere premuto un tasto qualsiasi per visualizzare l'ultima ora di accensione programmata e quindi procedere alla modifica dell'ora.
D) Si deve tenere premuto il tasto "PROG" sino a quando sul display non compare l'ora di accensione desiderata.

024. Secondo il brano:

- A) L'apparecchio ha un orario di accensione preimpostato.
B) Il tasto "30" indica che l'apparecchio si accenderà trascorsi 30 minuti.
C) Il BEEP indica che l'apparecchio è in funzione.
D) La spia verde indica che la caffettiera è accesa.

025. Quattro amici, al termine di un corso sportivo della durata di sei mesi, decidono che ognuno affronti un altro in uno sport diverso da quello oggetto del corso: A ha terminato con successo il corso di biliardo, B di ping pong, C di scherma mentre D quello di tiro con l'arco. Se B affronta D nel biliardo, C affronta B nel tiro con l'arco, in quali sport possono affrontarsi A e B?

- A) Scherma o biliardo. B) Tiro con l'arco o ping pong. C) Scherma o tiro con l'arco. D) Tiro con l'arco o biliardo.

026. Identificare la sequenza corretta:

1) farsi consegnare il libro prescelto dal bibliotecario 2) recarsi alla biblioteca 3) leggere 4) consultare l'indice generale dei volumi 5) riconsegnare il libro prima dell'uscita 6) uscire di casa.

- A) 2, 4, 6, 3, 5, 1. B) 5, 2, 4, 1, 3, 6. C) 6, 2, 1, 4, 5, 3. D) 6, 2, 4, 1, 3, 5.

027. Se C è più grande di B e C è più piccolo di D e A è più grande di B, quale delle seguenti affermazioni è sicuramente falsa?

- A) A è più grande di B e di D. B) D è più grande di B. C) A è più piccolo di D. D) D è più piccolo di B.

028. Sei artisti (Musicista, Pittore, Scultore, Fotografo, Ballerino, Scrittore) siedono ad una tavola rettangolare, due da un lato, due dall'altro e due ai capotavola. Il Musicista è di fronte al Pittore, il Fotografo è di fronte al Ballerino. Se né il Fotografo, né il Pittore siedono a capotavola, chi siede a capotavola?

- A) Musicista e Ballerino. B) Scrittore e Scultore. C) Scrittore e Ballerino. D) Scrittore e Musicista.

029. Se l'espressione "Cadere in piedi" sta a "uscire senza danno e con dignità da situazioni pericolose" allora l'espressione "Toccare con mano qualcosa" sta a:

- A) Constatere direttamente. B) Lamentarsi per un danno che non si è ancora subito.
C) Decidere fermamente di fare qualcosa. D) Sentirsi mancare per debolezza, paura.

030. In un ospedale lavorano 48 persone tra medici e infermieri. Calcolare quanti sono i medici e quanti gli infermieri sapendo che i medici sono 1/6 del personale.

- A) I medici sono 7 e gli infermieri 41. B) I medici sono 15 e gli infermieri 33.
C) I medici sono 10 e gli infermieri 38. D) I medici sono 8 e gli infermieri 40.

031. Il consiglio di amministrazione è iniziato alle 9,00, è stato sospeso alle 13,42, ripreso alle 14,07 e si è concluso con 20 minuti di anticipo sul previsto orario delle 18,00. Quanto è durato il consiglio?

- A) 8 ore e 5 minuti. B) 8 ore e 12 minuti. C) 8 ore e 15 minuti. D) 8 ore e 25 minuti.

032. Individuare il numero mancante:

7 - 9 - 12 - 16 - 21 - ...

- A) 32. B) 27. C) 25. D) 31.

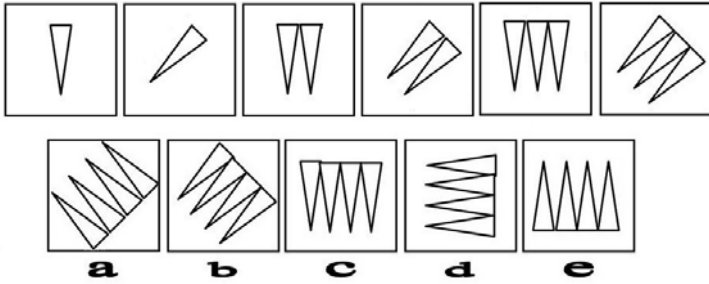
033. Carlo ha 6 anni e suo fratello 8, lo zio ha 38 anni in più di Carlo. Quando lo zio avrà 51 anni quale età avranno Carlo e suo fratello?

- A) Carlo 13 anni e il fratello 14 anni. B) Carlo 13 anni e il fratello 15 anni.
C) Carlo 15 anni e il fratello 17 anni. D) Carlo 12 anni e il fratello 15 anni.

034. In fila al supermercato di un grande centro commerciale ci sono 372 persone e le casse aperte sono solo due. Calcolare quante persone sono in fila ad ogni cassa, sapendo che le persone in fila alla prima cassa sono il triplo di quelle presenti alla seconda.

- A) Le persone in fila alla prima cassa sono 278, quelle in fila alla seconda sono 94.
B) Le persone in fila alla prima cassa sono 230, quelle in fila alla seconda sono 142.
C) Le persone in fila alla prima cassa sono 279, quelle in fila alla seconda sono 93.
D) Le persone in fila alla prima cassa sono 285, quelle in fila alla seconda sono 87.

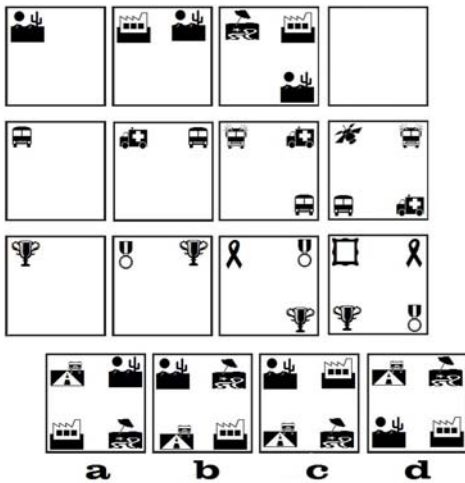
035. Le sei Figure/Domanda costituiscono una serie. Scegliere tra le Figure/Risposta le due che verrebbero subito dopo nella serie.



A) Nell'ordine le figure indicate con le lettere a - c.
C) Nell'ordine le figure indicate con le lettere c - e.

B) Nell'ordine le figure indicate con le lettere e - d.
D) Nell'ordine le figure indicate con le lettere c - b.

036. Individuare la figura che completa la serie.



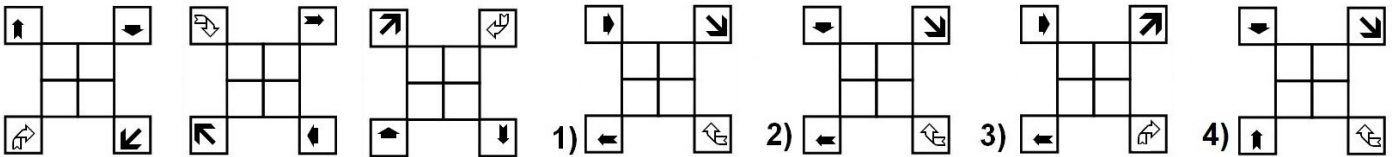
A) Figura d.

B) Figura a.

C) Figura b.

D) Figura c.

037. Quale delle figure proposte integra la serie?



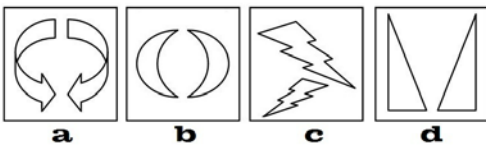
A) La figura 2).

B) La figura 3).

C) La figura 1).

D) La figura 4).

038. Dopo aver osservato attentamente ognuna delle figure contenute nei box a, b, c, d, indicare quale box eliminerebbe.



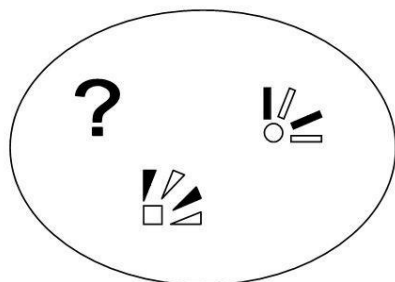
A) Box a.

B) Box c.

C) Box d.

D) Box b.

039. Uno solo dei disegni indicati con le lettere a, b, c, d fa parte dell'insieme. Quale?



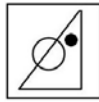
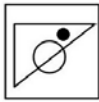
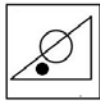
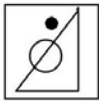
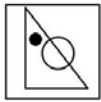
A) Disegno a.

B) Disegno c.

C) Disegno b.

D) Disegno d.

040. Come appare la figura proposta vista di fronte ad uno specchio?



a

b

c

d

- A) Come quella indicata con la lettera d.
C) Come quella indicata con la lettera b.

- B) Come quella indicata con la lettera c.
D) Come quella indicata con la lettera a.