

UNIVERSITA' DELLA VALLE D'AOSTA

CORSO DI LAUREA IN SCIENZE POLITICHE E DELLE RELAZIONI INTERNAZIONALI

PROVA DI AMMISSIONE

ANNO ACCADEMICO 2019/2020

1.	<p>Il referendum per il quale i cittadini italiani vennero chiamati a scegliere fra la forma di stato monarchica e quella repubblicana ebbe luogo:</p> <p>a) Nel 1861 b) Nel 1948 c) Nel 1946 d) Nel 1922</p>
2.	<p>Tra le seguenti regioni italiane si indichi quella che non è a statuto speciale:</p> <p>a) Sicilia b) Puglia c) Friuli-Venezia Giulia d) Sardegna</p>
3.	<p>Tra i seguenti Stati si indichi quello che non è una repubblica federale:</p> <p>a) Germania b) Messico c) Argentina d) Francia</p>
4.	<p>Nel 2019 il debito pubblico italiano, in euro, è stimato intorno a:</p> <p>a) 2350 miliardi b) 1100 miliardi c) 1970 miliardi d) 550 miliardi</p>
5.	<p>Il Danubio non passa per quale dei seguenti stati:</p> <p>a) Austria b) Bulgaria c) Svizzera d) Ungheria</p>
6.	<p>Qual è la data della dichiarazione di guerra con cui l'Italia entra nel secondo conflitto mondiale?</p> <p>a) 10 giugno 1940 b) 15 dicembre 1941 c) 1° settembre 1939 d) 25 aprile 1945</p>
7.	<p>Quale dei seguenti Stati non è membro dell'Unione Europea?</p> <p>a) Portogallo b) Serbia c) Lussemburgo d) Lituania</p>
8.	<p>In quale anno la Dichiarazione universale dei diritti umani è stata promulgata dall'ONU?</p> <p>a) 1789 b) 1815 c) 1948 d) 1215</p>
9.	<p>In quale anno Napoleone iniziò la "campagna d'Italia"?</p> <p>a) 1748 b) 1796 c) 1882 d) 1689</p>
10.	<p>A quale Stato appartiene la Catalogna?</p> <p>a) Francia b) Portogallo c) Belgio d) Spagna</p>

FORM A

11.	Attualmente il tasso di disoccupazione in Italia è stimato dall'ISTAT intorno al: a) 22% b) 45% c) 10% d) 34%
12.	Chi è attualmente Presidente della Commissione Europea? a) Ursula von der Leyen b) Romano Prodi c) Angela Merkel d) Emmanuel Macron
13.	Secondo la Costituzione italiana il Presidente della Repubblica è eletto: a) direttamente dal popolo b) dal Senato c) dai presidenti delle Regioni d) dal Parlamento in seduta comune cui si aggiungono i delegati regionali
14.	In quale anno inizia la Rivoluzione russa? a) 1789 b) 1640 c) 1917 d) 1848
15.	Il lago Titicaca si trova in: a) America meridionale b) Europa c) Africa d) Asia

In un mercatino vendo 10 magliette al prezzo di 30 euro cadauna e ho sostenuto un costo di acquisto per ciascuna maglietta di 10 euro.

16.	Quanto sono i ricavi unitari? a) 30 b) 10 c) 20 d) 40
17.	Quanto sono i ricavi totali? a) 400 b) 100 c) 200 d) 300
18.	Quanto sono i costi totali? a) 200 b) 300 c) 100 d) 400
19.	Quanto sono i guadagni totali? a) 200 b) 100 c) 300 d) 400
20.	Quanto è il margine di guadagno (percentuale) a) 50% b) 10% c) 66% d) 20%

Leggere il brano e rispondere alle domande successive.

L'Agenda 2030 per lo Sviluppo Sostenibile è un programma d'azione per le persone, il pianeta e la prosperità sottoscritto nel settembre 2015 dai governi dei 193 Paesi membri dell'ONU. Essa ingloba 17 Obiettivi per lo Sviluppo Sostenibile. Tra gli obiettivi sono presenti: "Garantire modelli di consumo e produzione sostenibili", "Garantire un'istruzione di qualità inclusiva ed equa e promuovere opportunità di apprendimento continuo per tutti", "Ridurre le disuguaglianze all'interno dei e fra i Paesi", "Proteggere, ripristinare e favorire un uso sostenibile dell'ecosistema terrestre"

Corrispondono, non necessariamente in quest'ordine, agli obiettivi numero quattro, dieci, dodici e quindici e ciascuno è rappresentato da un simbolo su un riquadro di diverso colore. I colori sono (elencati alla rinfusa) senape, fucsia, rosso e verde.

È inoltre noto che:

- L'obiettivo numero 4 è rappresentato in un quadrato rosso e non è riferito "alla riduzione delle disuguaglianze"
 - L'obiettivo riferito all'"istruzione di qualità" non è né il numero 10 né il numero 15
 - L'obiettivo riferito all'"uso sostenibile dell'ecosistema terrestre" è rappresentato dal riquadro verde e non è il numero 10.
- L'obiettivo "modelli di consumo e produzione sostenibili" è il numero 12 e non è rappresentato dal quadrato fucsia

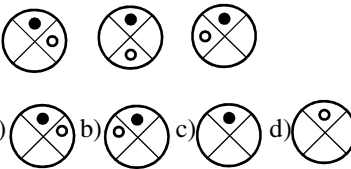




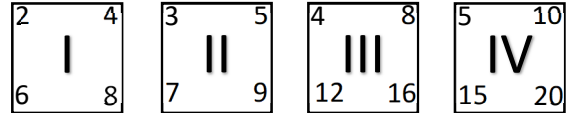

21.	<p>L'obiettivo "Garantire un'istruzione di qualità inclusiva ed equa e promuovere opportunità di apprendimento continuo per tutti" è:</p> <p>a) rappresentato dal riquadro fucsia b) il numero 4 c) rappresentato dal riquadro verde d) il numero 12</p>
22.	<p>L'obiettivo "Garantire modelli di consumo e produzione sostenibili" è:</p> <p>a) rappresentato da un riquadro rosso b) il numero 15 c) il numero 4 d) è rappresentato dal riquadro color senape</p>
23.	<p>L'obiettivo "Ridurre le disuguaglianze all'interno dei e fra i Paesi" è:</p> <p>a) il numero 15 b) il numero 10 c) rappresentato dal riquadro color senape d) rappresentato dal riquadro verde</p>
24.	<p>Il riquadro color fucsia rappresenta:</p> <p>a) l'obiettivo numero 4 b) l'obiettivo "Garantire modelli di consumo e produzione sostenibili" c) l'obiettivo "Garantire un'istruzione di qualità" d) l'obiettivo numero 10</p>
25.	<p>L'obiettivo numero 15 è:</p> <p>a) color senape b) "istruzione di qualità" c) "uso sostenibile dell'ecosistema terrestre" d) color rosso</p>

Leggere il brano e rispondere alle domande successive.

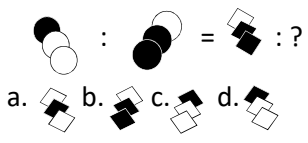
Quel ramo del lago di Como, che volge a mezzogiorno, tra due catene non interrotte di monti, tutto a seni e a golfi, a seconda dello sporgere e del rientrare di quelli, vien, quasi a un tratto, a restringersi, e a prender corso e figura di fiume, tra un promontorio a destra, e un'ampia costiera dall'altra parte; e il ponte, che ivi congiunge le due rive, par che renda ancor più sensibile all'occhio questa trasformazione, e segni il punto in cui il lago cessa, e l'Adda ricomincia, per ripigliar poi nome di lago dove le rive, allontanandosi di nuovo, lascian l'acqua distendersi e rallentarsi in nuovi golfi e in nuovi seni. La costiera, formata dal deposito di tre grossi torrenti, scende appoggiata a due monti contigui, l'uno detto di san Martino, l'altro, con voce lombarda, il *Resegone*, dai molti suoi cocuzzoli in fila, che in vero lo fanno somigliare a una sega: talché non è chi, al primo vederlo, purché sia di fronte, come per esempio di su le mura di Milano che guardano a settentrione, non lo discerna tosto, a un tal contrassegno, in quella lunga e vasta gioiata, dagli altri monti di nome più oscuro e di forma più comune. Per un buon pezzo, la costa sale con un pendio lento e continuo; poi si rompe in poggi e in valloncelli, in erte e in ispianate, secondo l'ossatura de' due monti, e il lavoro dell'acque. Il lembo estremo, tagliato dalle foci de' torrenti, è quasi tutto ghiaia e ciottoloni; il resto, campi e vigne, sparse di terre, di ville, di casali; in qualche parte boschi, che si prolungano su per la montagna. Lecco, la principale di quelle terre, e che dà nome al territorio, giace poco discosto dal ponte, alla riva del lago, anzi viene in parte a trovarsi nel lago stesso, quando questo ingrossa: un gran borgo al giorno d'oggi, e che s'incammina a diventar città. Ai tempi in cui accaddero i fatti che prendiamo a raccontare, quel borgo, già considerabile, era anche un castello, e aveva perciò l'onore d'alloggiare un comandante, e il vantaggio di possedere una stabile guarnigione di soldati spagnoli, che insegnavan la modestia alle fanciulle e alle donne del paese, accarezzavan di tempo in tempo le spalle a qualche marito, a qualche padre; e, sul finir dell'estate, non mancavan mai di spandersi nelle vigne, per diradar l'uve, e alleggerire a' contadini le fatiche della vendemmia.

26.	<p>Dal testo emerge che il territorio di riferimento è sotto la dominazione</p> <p>a) Spagnola: b) Inglese c) Francese d) Longobarda</p>
27.	<p>Dal testo emerge che l'Adda è:</p> <p>a) Un fiume b) Una montagna c) Un lago d) Uno stagno</p>
28.	<p>Il territorio a cui si fa riferimento nel testo è:</p> <p>a) Di pianura b) Collinare c) Marittimo d) Montano</p>
29.	<p>La città principale nel territorio a cui si fa riferimento nel testo è:</p> <p>a) Como b) Lecco c) Varese d) Milano</p>
30.	<p>La montagna citata nel testo ricorda:</p> <p>a) Un'onda marina b) Un modo di salutare c) Utensile usato per la recisione di materiali vari d) La precedente esperienza di dominazione francese</p>

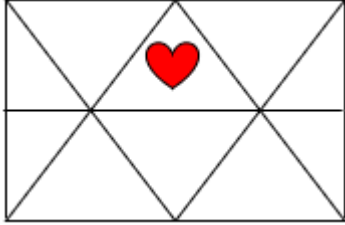
31.	<p>Lanciando due dadi, la probabilità che esca 2 è la stessa che esca:</p> <p>a) 12 b) 11 c) 4 d) 9</p>
32.	<p>Lanciando due dadi, il numero con la probabilità massima di uscita è:</p> <p>a) 3 b) 4 c) 11 d) 7</p>
33.	<p>In un mazzo di 40 carte, quale è la probabilità che esca una figura?</p> <p>a) $3/40$ b) $3/10$ c) $3/20$ d) $3/15$</p>
34.	<p>In un mazzo di 40 carte, quale è la probabilità che esca un asso?</p> <p>a) $1/20$ b) $1/30$ c) $1/10$ d) $1/40$</p>
35.	<p>Se un'auto, a velocità costante, in 20 minuti percorre 50 km, quanti chilometri percorre in un'ora?</p> <p>a) 150 b) 120 c) 130 d) 180</p>

36.	<p>Completa la sequenza:</p>  <p>a)  b)  c)  d) </p>
37.	<p>Quale quadrato differisce dagli altri?</p>  <p>a) I b) II c) III d) IV</p>
38.	<p>Quanti triangoli osservi nella seguente figura?</p>  <p>a) 2 b) 5 c) 7 d) 9</p>

39. 4. Individua la figura che è logico inserire quale quarto termine della seguente proporzione: c



40. Quanti triangoli contengono il cuore?



- a) 1
- b) 3
- c) 6
- d) 10